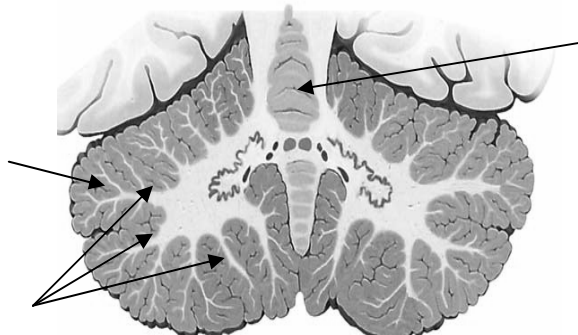


Тема занятия: Задний мозг: мост, мозжечок. Внешнее и внутреннее строение, функции. Продолговатый мозг: внешнее и внутреннее строение, функции. IV желудочек. Ромбовидная ямка. Перешеек ромбовидного мозга.

Задание 1

Подпишите обозначенные части мозжечка. Отметьте и подпишите ядра.

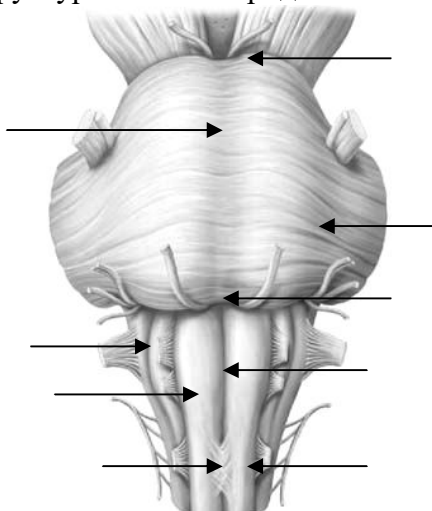


Задание 2

Запишите, с каким отделом мозга соединяет мозжечок каждая из его ножек.

Задание 3

Подпишите обозначенные структуры моста и продолговатого мозга.



Задание 4

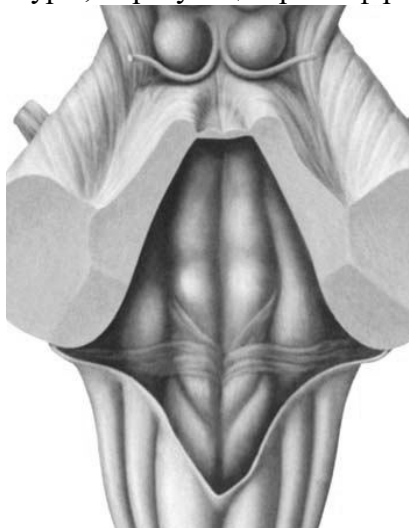
Заполните таблицу: «Четвертый желудочек».

Является полостью:		
Стенки	Крыша	
	Дно	
Сообщение с третьим		

желудочком	
Сообщение подпаутинным пространством	с

Задание 5

Обозначьте и подпишите структуры, образующие рельеф ромбовидной ямки.



Задание 6

Заполните таблицу.

Название нерва	Ядра нерва	Проекция ядра в ромбовидную ямку
Тройничный –		
Лицевой -		
Языкоглоточный -		
Блуждающий -		
Добавочный -		

--	--	--